

Feladatleírás

Merre forog?

Képzeld el, hogy


egy műszaki tervező irodában
gyakornoknak jelentkezel!

A feladat:

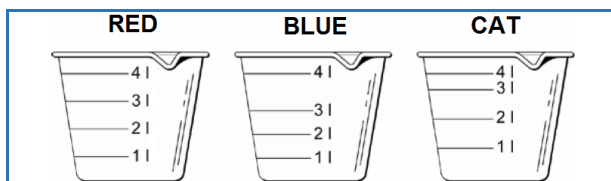
műszaki feladványok megoldása



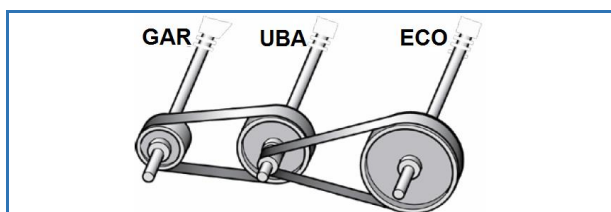
10 perced van a feladatra.



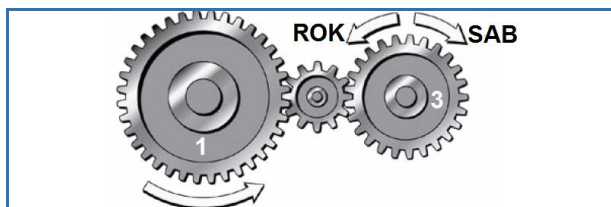
1. Melyik vödör liter-beosztása lehet leginkább helyes?



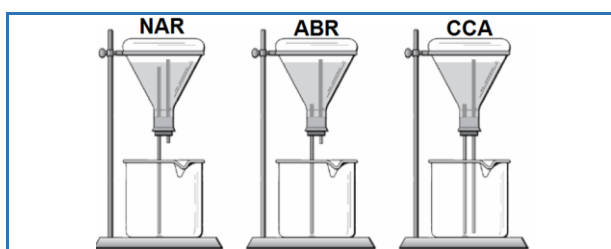
2. Melyik tengely forog a leggyorsabban?



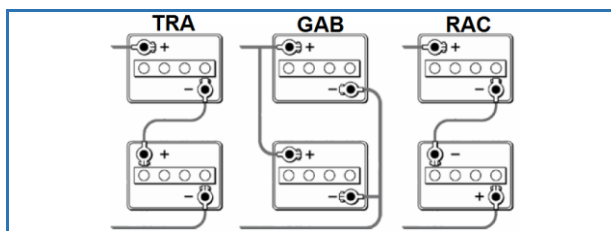
3. Melyik irányba forog a 3. kerék?



4. Melyik tartályból engedhető le a legtöbb víz?



5. Melyik két 6 V-os elem ad együtt 12 V-os áramot?



Jelöld a válaszokat az **Eredménylapon!**